

Séance 2 : Les dynamiques métropolitaines d'attraction

Quelles formes d'attraction les métropoles des Etats-Unis exercent-elles ?

Devoirs :

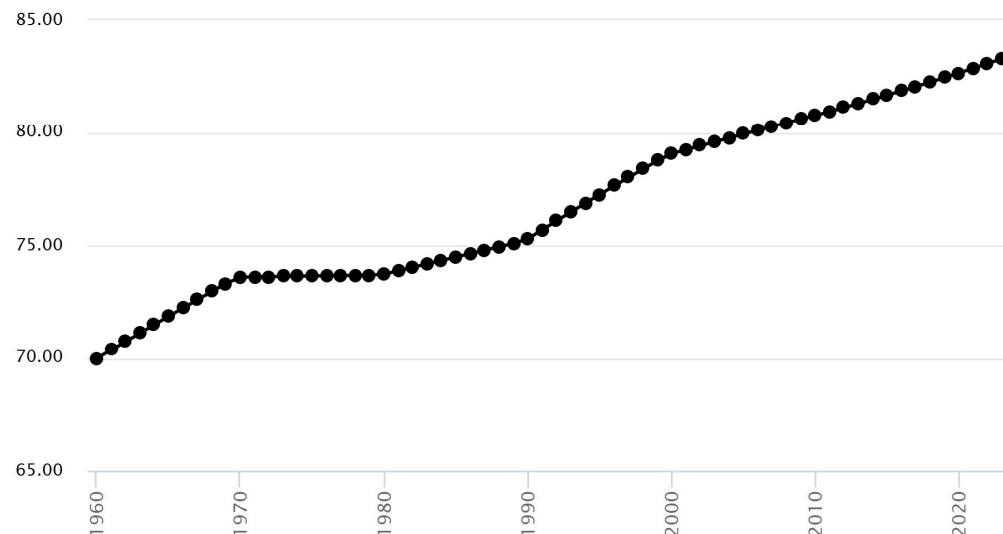
Apporter matériel de cartographie (crayons de couleurs/feutres)
+Activité :Q1 -2
Attention, ne complétez que les informations de la ligne qui vous a été attribué en cours

Compétences :

*Extraire des informations,
les ordonner,
cartographier*

1

Population urbaine (% de la population totale), États-Unis

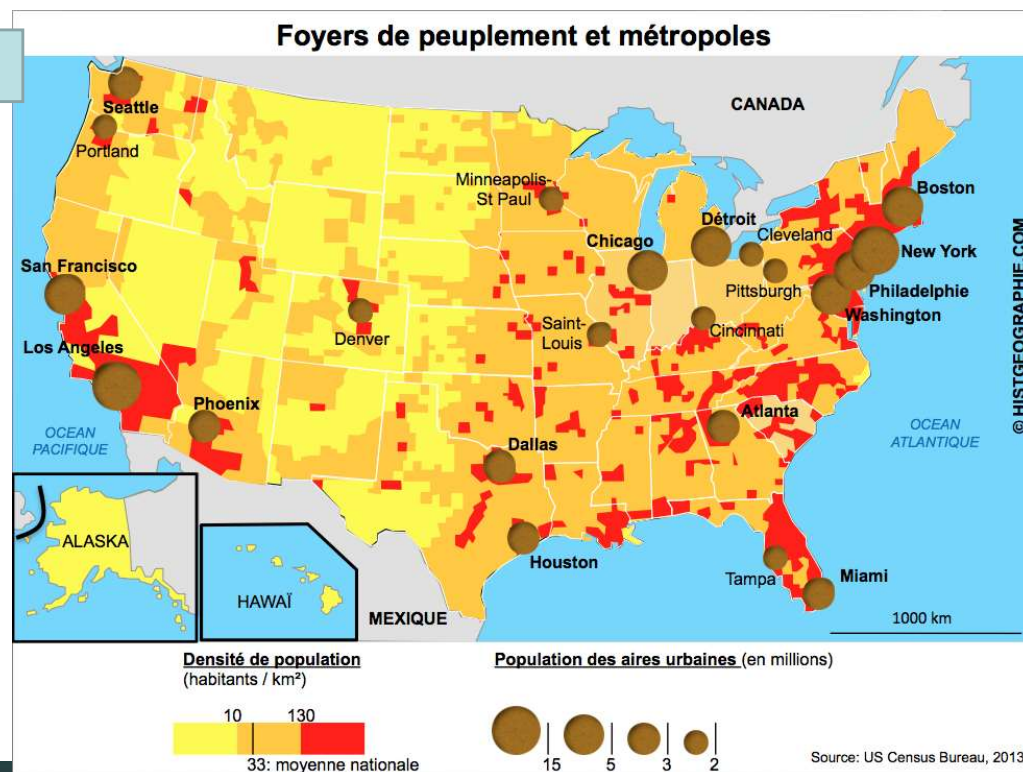


Perspective monde, date de consultation: 02/12/2025, source: Banque mondiale

2a

1. Doc 1 : Comment a
évolué la part de la
population urbaine
américaine depuis 1960 ?

2



2. Doc 2 : Localise et
nomme les principales
métropoles étatsuniennes
de plus de 5 millions
d'habitants ?

Activité : La territorialisation de la puissance étatsunienne

1. Trouve la ville qui accueille les propositions ci-dessus (ou la métropole la plus proche parmi celles sur la carte si l'activité a lieu en banlieue ou à proximité).

N°	Élément	Ville	Domaine
expl	Résidence du président des Etats-Unis : Maison Blanche	Washington	Politique/décisionnel (bleu)
1	Siège de Nike		
2	SpaceX		
3	Centre spatial Kennedy		
4	Premier port de porte-conteneur (.....)		
5	4e université mondiale – 2025 (H.....)		
6	Siège de Google		
7	Siège d'ExxonMobil		
8	Siège de John Deere		
9	Siège de Qualcomm		
10	Premier port de croisière du monde (dont la ville à accueillie le plus de Superbowl)		
11	Siège de la FED (F..... E..... D.....)		
12	Siège de Meta (Facebook)		
13	Siège de Tesla		
14	1ère université mondiale - 2025 (M..... I..... T.....)		
15	Siège de General Motors		
16	Siège de Microsoft		
17	Siège du FMI (F..... M..... I.....) et de la Banque mondiale		
18	Siège de Pfizer (laboratoires)		
19	Siège d'Amazon		
20	Siège de Netflix		
21	Siège de Boeing		
22	Capitale mondiale du cinéma:		
23	1ère Bourse mondiale (.....)		
24	Siège de Coca-Cola		
25	CME Group (Bourse de commerce)		
26	Siège de l'ONU (O..... N..... U.....)		
27	Premier aéroport du monde 2025 :		
28	Siège de Mac Donald's		
29	Les deux premiers parcs Disney :/		
30	Siège de Ford		
31	Siège d'Apple		

2. Indique son domaine de compétence parmi les suivants :

Economique, industriel et financier (vert) ;

Loisirs et tourisme (jaune) ;

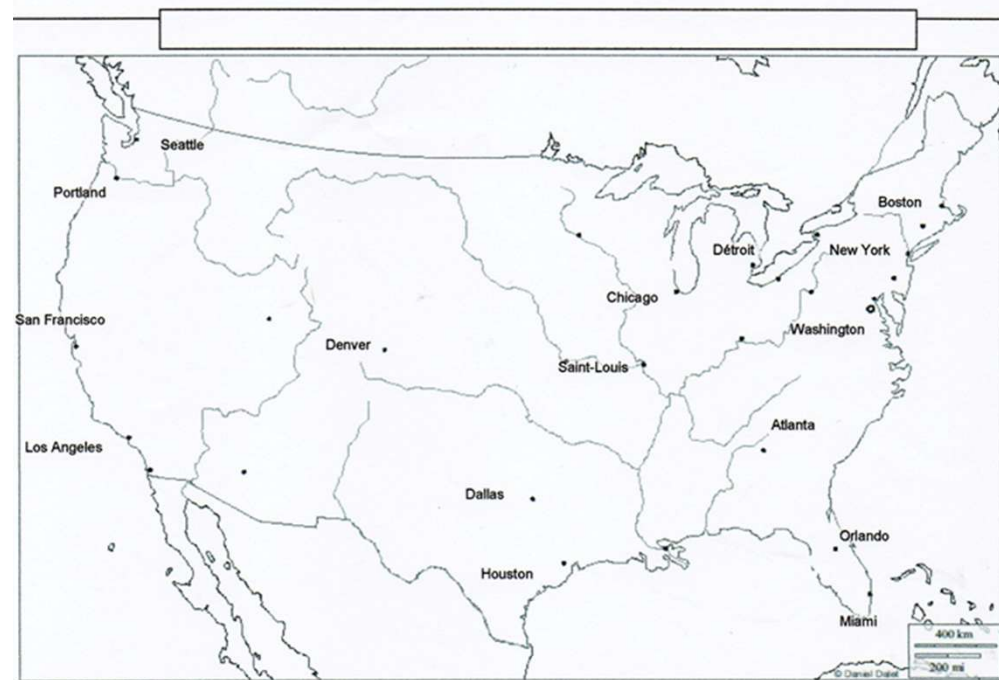
Politique, décisionnel et militaire (bleu) ;

Innovation, scientifique et technologique (rose).

3. Identifie parmi toutes les métropoles relevées, les 10 qui représentent les « vitrines » de la puissance américaine dans le monde, nous le reporteront sur le croquis avec le figuré ponctuel qui correspond en légende.

4. Pourquoi ces métropoles marquent-elle la puissance des Etats-Unis ?

2b



I – La métropolisation du territoire

II – Les ensembles du territoire et leur intégration à la mondialisation

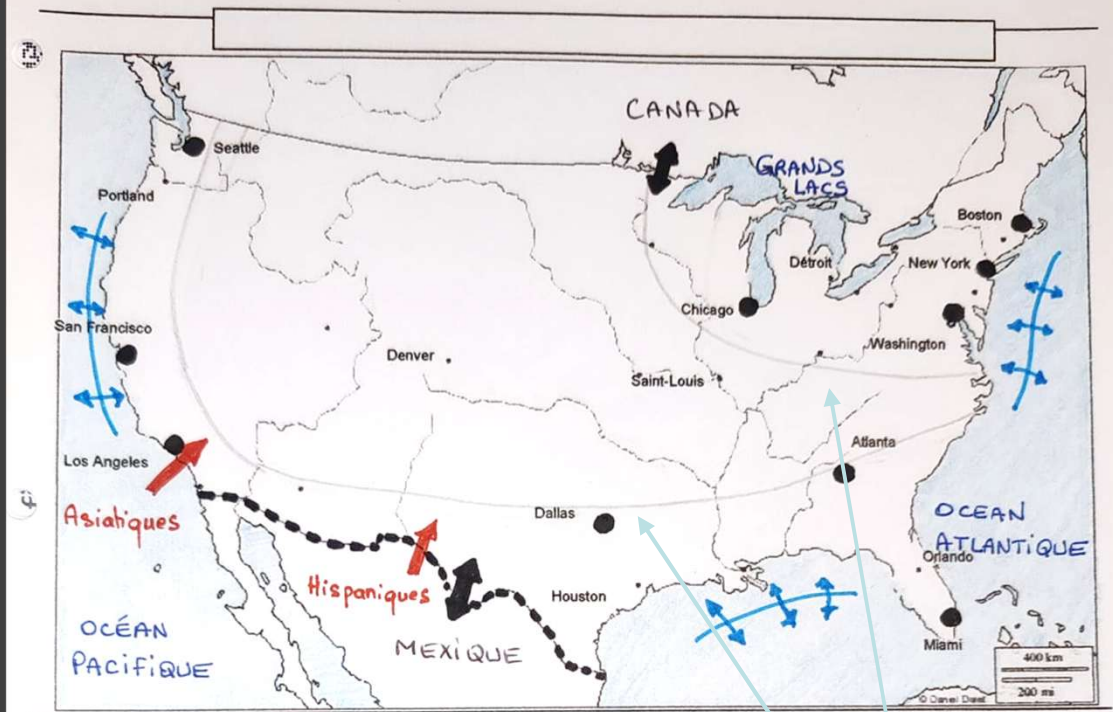
☐
☐
☐

III – Les flux mondiaux et internes qui animent le territoire

2c

Aux EUA, 4 américains sur 5 vivent **dans une métropole**, on parle de **métropolisation**. Or la métropolisation et la mondialisation fonctionnent ensembles. De fait, New York, Washington, Chicago, Los Angeles ou San Francisco sont des centres aux actions mondiales. Les principales métropoles américaines accueillent les centres du pouvoir, de la finance, de la recherche et des entreprises innovantes et des activités de haute technologie devenant le lieu d'implantation privilégiée des **firmes transnationales (FTN)**.

• Complétons le croquis



I - La métropolisation du territoire

- Métropole de rang mondial

II - Les ensembles du territoire et leur intégration à la mondialisation

☐
☐
☐

Attention, les deux lignes **au crayon à papier**

III - Les flux mondiaux et internes qui animent le territoire

- ⚡ Façade maritime active
- ↔ Echanges frontaliers intenses
- ➡ Flux d'immigration important
- Frontière très surveillée

