




Géographie

Thème 1 : Des espaces transformés par la mondialisation

Chapitre 2: LES ÉTATS-UNIS

Pb :

Quelle place occupent les Etats-Unis dans le processus de mondialisation et quelles sont les conséquences sur l'organisation de son territoire ?



Séance 1 : Les Etats-Unis et le monde

Quelle sorte de rapport au
monde a ce territoire ?

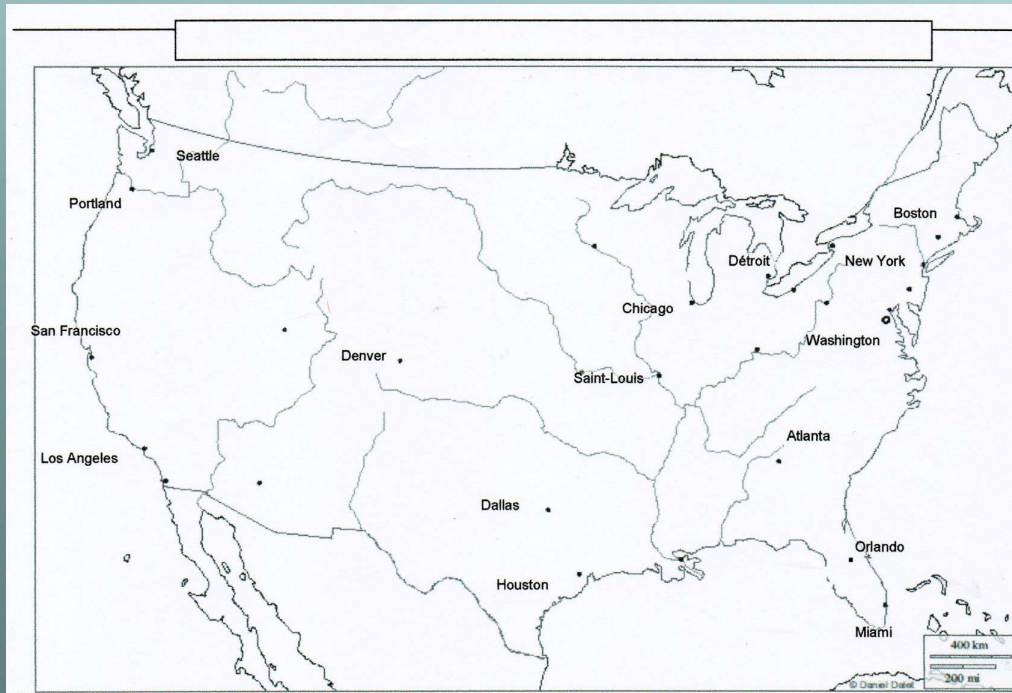
Devoirs :

Apporter matériel
de cartographie
(crayons de
couleurs/feutres)
+ **exercice diapo**
1g Q. 1 à 3

Compétences :

*Localiser,
situer,
cartographier*

Distribution du fond de carte que nous compléterons ensemble en cours




I – La métropolisation du territoire



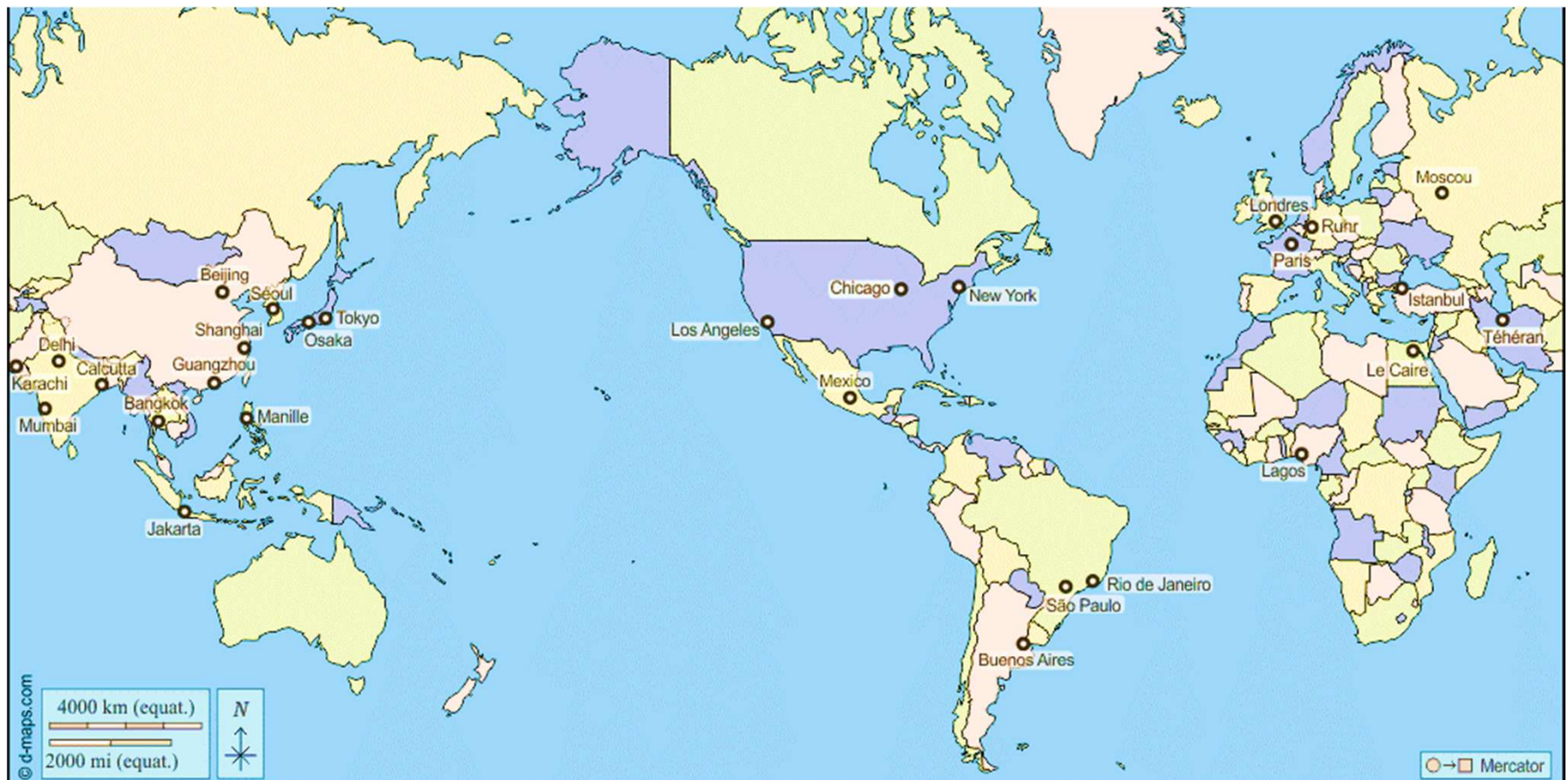
II – Les ensembles du territoire et leur intégration à la mondialisation



III – Les flux mondiaux et internes qui animent le territoire



1a



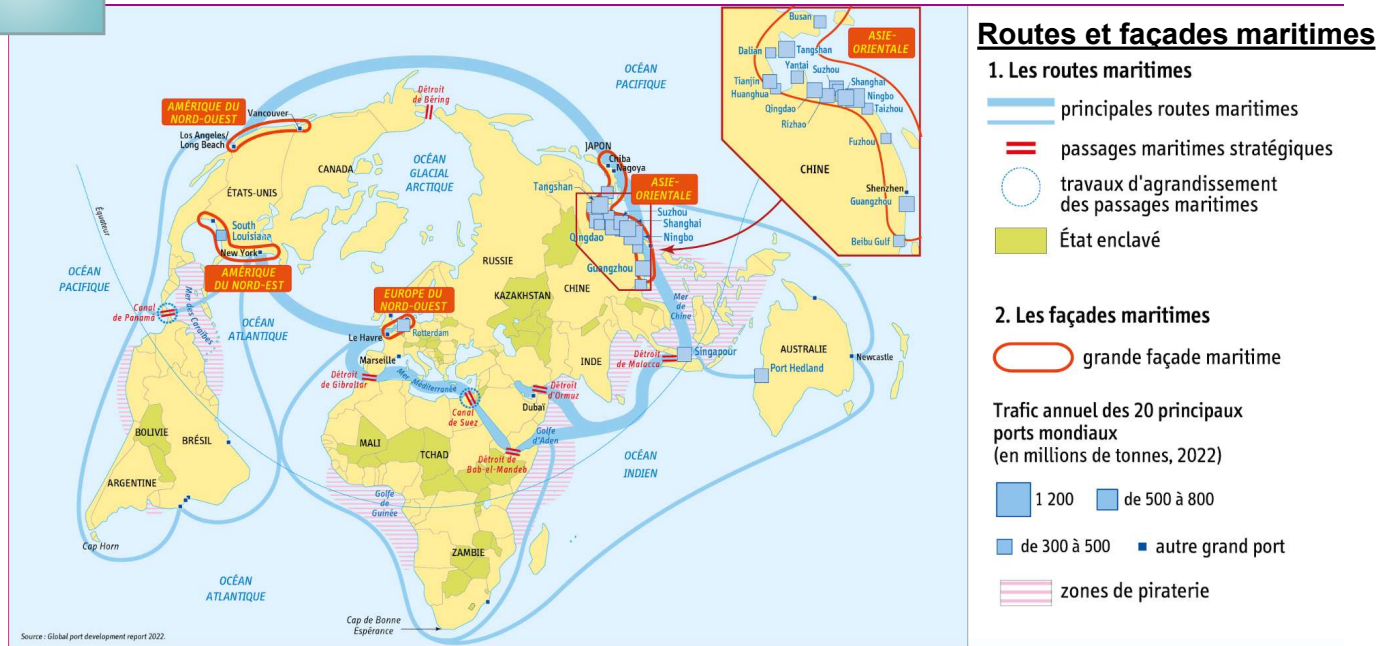
A l'oral

1. Sur quel **continent** se trouvent les Etats-Unis ?
2. Relevez la **particularité** de cette carte .
3. Quelles **interfaces** (1) assurent la communication avec les autres continents ?
4. L'attraction qu'exercent les littoraux se nomme : ☐ maritimisation
☐ littoralisation
☐ océanisation

(1) Une interface est une zone de contact entre deux espaces de nature différente, engendrant des échanges entre ces deux espaces.

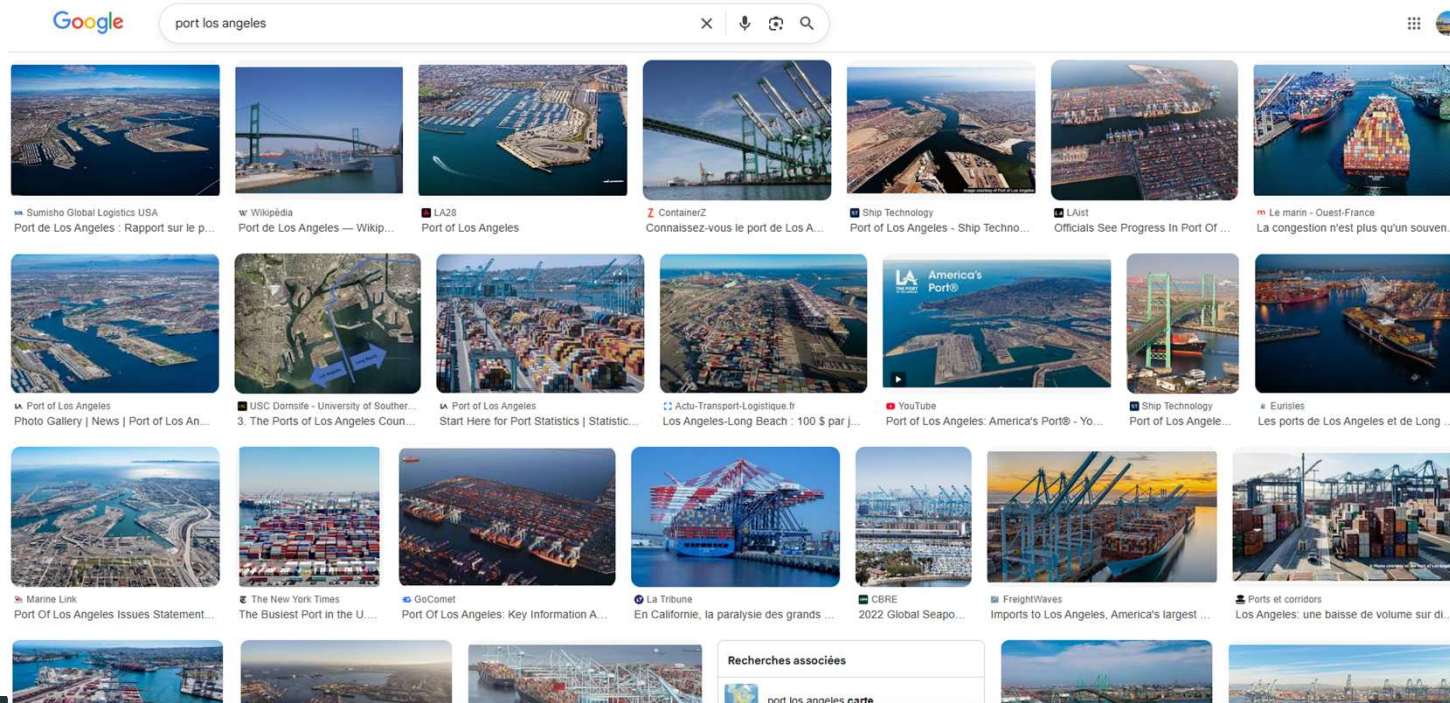
Reprise chapitre précédent

A l'oral



1. Localisez et nommez les principales façades maritimes mondiales ? Quelle place occupent les Etats-Unis ? (Indice : observez les routes maritimes)

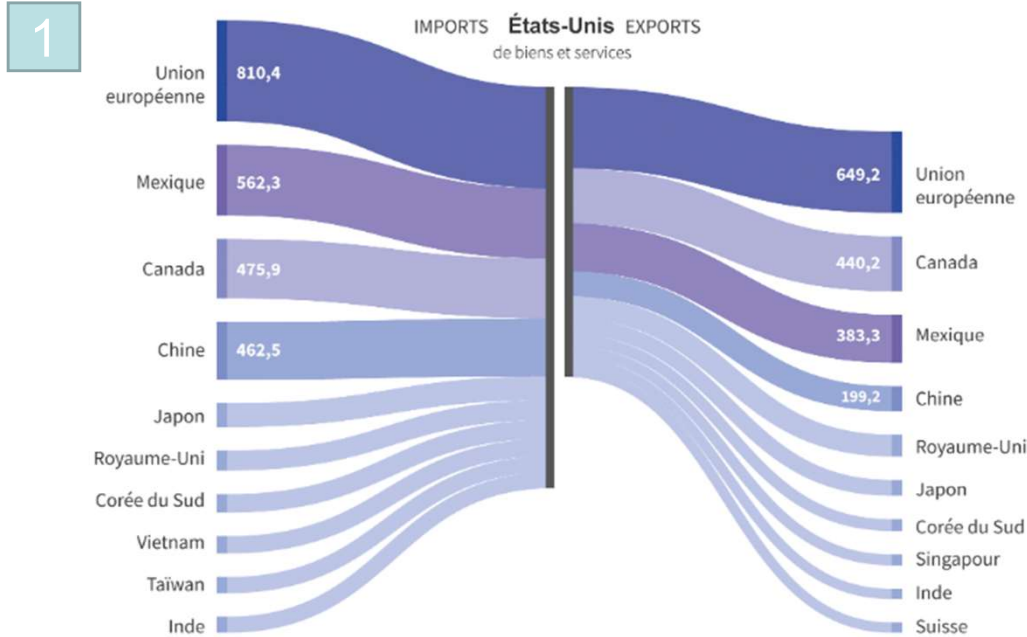
2. Observez les résultats d'une recherche Google images pour le port de Los Angeles. Comment qualifier ce port ?



Partenaires commerciaux des États-Unis

10 premiers partenaires en 2024
en milliards de dollars

1c

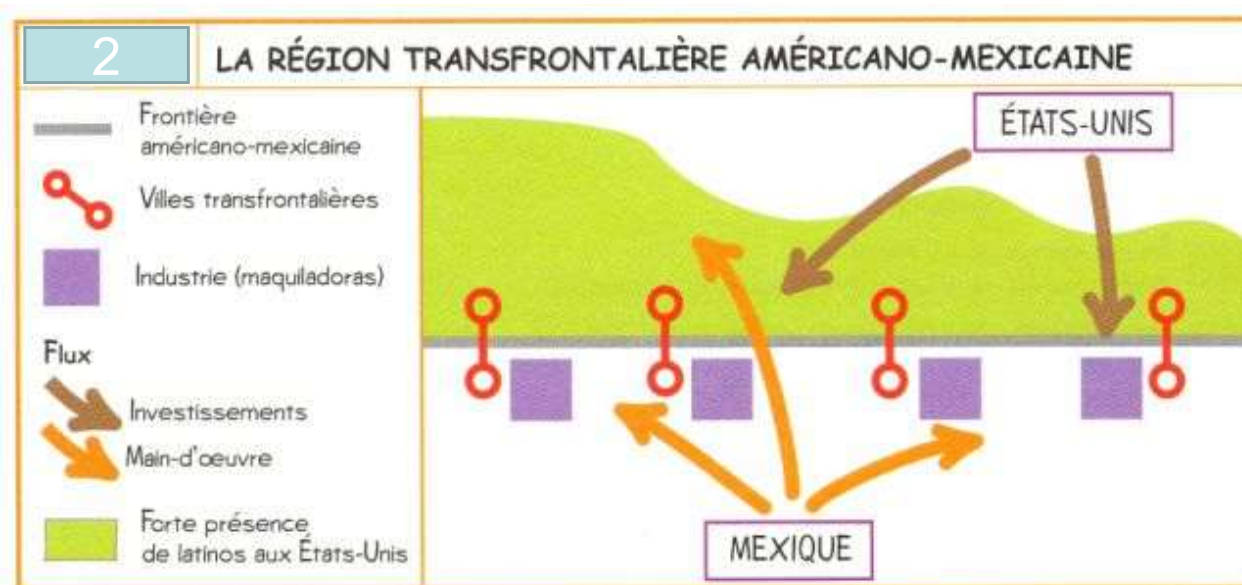


Source : Bureau d'analyse économique américain

AFP

1. Doc 1 : Nommez les principaux **partenaires commerciaux** des États-Unis ? Indiquer par quelles voies ses échanges sont-ils possibles ?

2. Doc 2 : Décrivez l'organisation de la **frontière** américano-mexicaine ? Quelle en est l'explication ?



A noter : Les échanges intenses entre les États-Unis, le Canada et le Mexique sont le résultat de plusieurs décennies de politiques de libre-échange, notamment l'ALENA puis l'AEUMC. Aujourd'hui, certaines décisions politiques remettent partiellement ces accords en question, mais les flux restent très importants.

I. Un territoire intégré au monde...

A. Ses atouts dans la mondialisation

1d

• Le continent **américain** représente une **péninsule** entre 2 océans. Ses **façades maritimes** ouvrent :

- d'un côté sur l'Europe et l'Afrique,
- de l'autre sur l'Asie et l'Océanie.

Ces façades ont été aménagées pour attirer sur les littoraux les hommes et les activités, on parle de **littoralisation**.

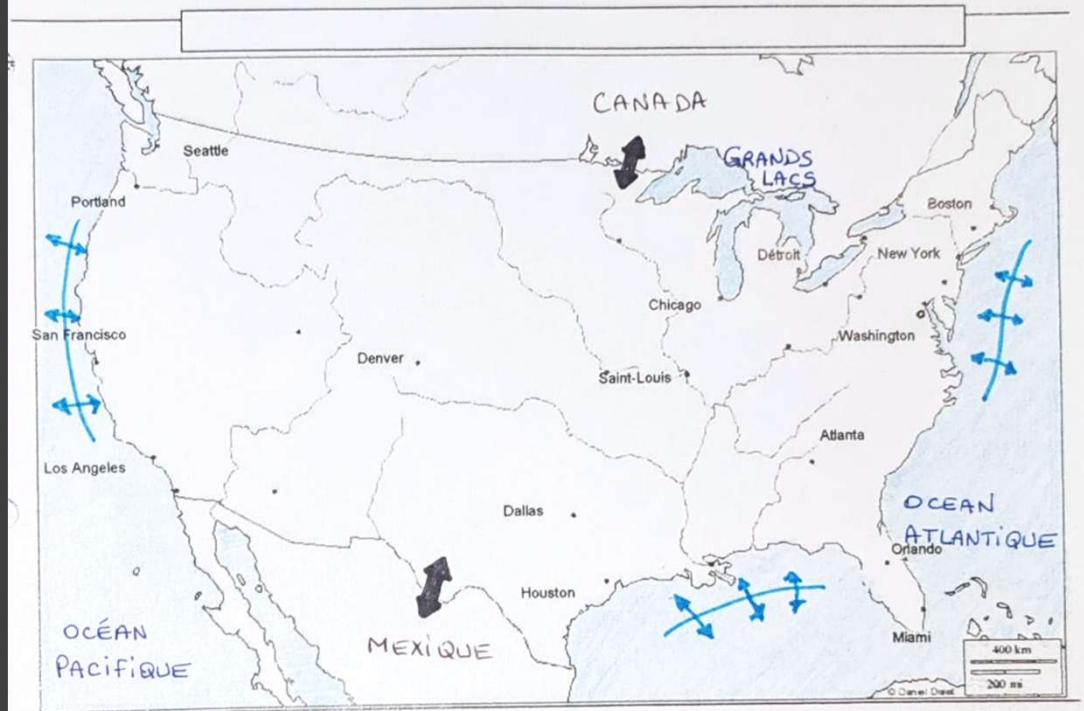
• A l'échelle du continent, les Etats-Unis d'Amérique (EUA) bénéficient d'une situation stratégique pour **les échanges** de tous ordres.

- Au Nord se trouve le **Canada**, un pays **riche** vers lequel **exporter** des productions à forte valeur ajoutée.

- Au Sud, l'**Amérique centrale et latine** ; des pays **moins riches** où la main d'œuvre est moins chère pour **importer** des produits moins complexes.

⇒ Ces **interfaces** maritimes et terrestres sont au cœur de la puissance des EUA.

• Complétons le croquis



I - La métropolisation du territoire

II - Les ensembles du territoire et leur intégration à la mondialisation

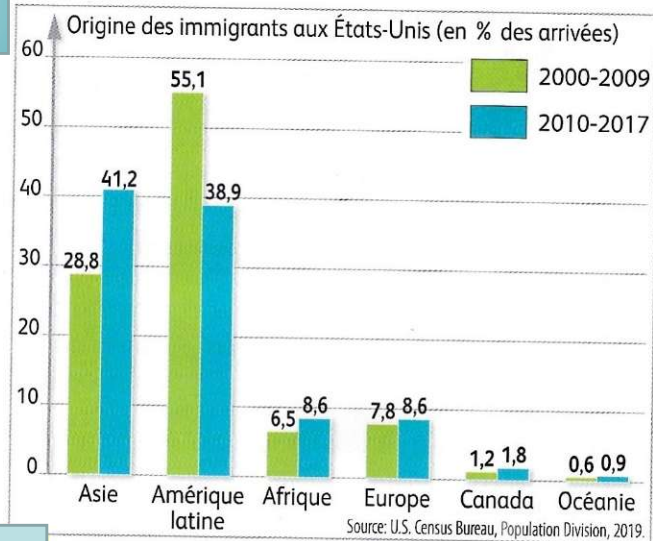
☐
☐
☐

III - Les flux mondiaux et internes qui animent le territoire

↕ Façade maritime active
↔ Echanges frontaliers intenses

- Attention, laissez la place pour 5 figurés dans cette partie de légende

1e



1 L'origine des migrants, début du XXI^e siècle

2 Récits de migrants d'aujourd'hui

a. Un migrant **hispanique** témoigne : « Au Mexique, je ne pouvais plus gagner assez pour ma famille. Ma femme et ma fille n'avaient rien à manger. J'étais obligé de choisir entre rester et voir ma famille souffrir ou partir pour la Californie et gagner de l'argent pour la nourrir. La décision était claire. Une fois arrivé, j'ai commencé à travailler. Je fais le jardinage pour un couple en échange d'une chambre dans leur garage. Comme ça je réussis à gagner de l'argent que j'envoie à ma famille. »

D'après le témoignage de José recueilli par Veronica Huerta, Université de l'État de Californie, 2016.



3 Le 13 août 2021, le mur sépare la ville d'Otay Mesa, en Californie (partie gauche de la photo), d'avec le Mexique. (SANDY HUFFAKER/AFP)

1. Doc 1 : Relevez l'origine majoritaire des immigrants aux États-Unis au début du XXI^e s. ?
2. Doc 1-3 : Comment cette immigration évolue-t-elle ? Expliquez par quel moyen les États-Unis entendent **contrôler** les migrants du sous continent américain ?
3. Doc 2 : Indiquez l'origine de l'**immigrant** ? Quelle est la **motivation** de sa migration ? (avec citation)

1f

B. Les dynamiques d'attractions du territoire

Sur un plan humain, cette ouverture au monde d'un pays riche entraîne des flux d'immigration depuis l'Asie et le Sud de continent américain.

- Complétons le croquis



I - La métropolisation du territoire

II - Les ensembles du territoire et leur intégration à la mondialisation

☐
☐
☐

III - Les flux mondiaux et internes qui animent le territoire

- ↕ Façade maritime active
- ↔ Echanges frontaliers intenses
- ➔ Flux d'immigration important
- Frontière très surveillée

- Attention, laissez la place pour 5 figurés dans cette partie de légende