

Géographie

Thème 1 : Des espaces transformés par la mondialisation

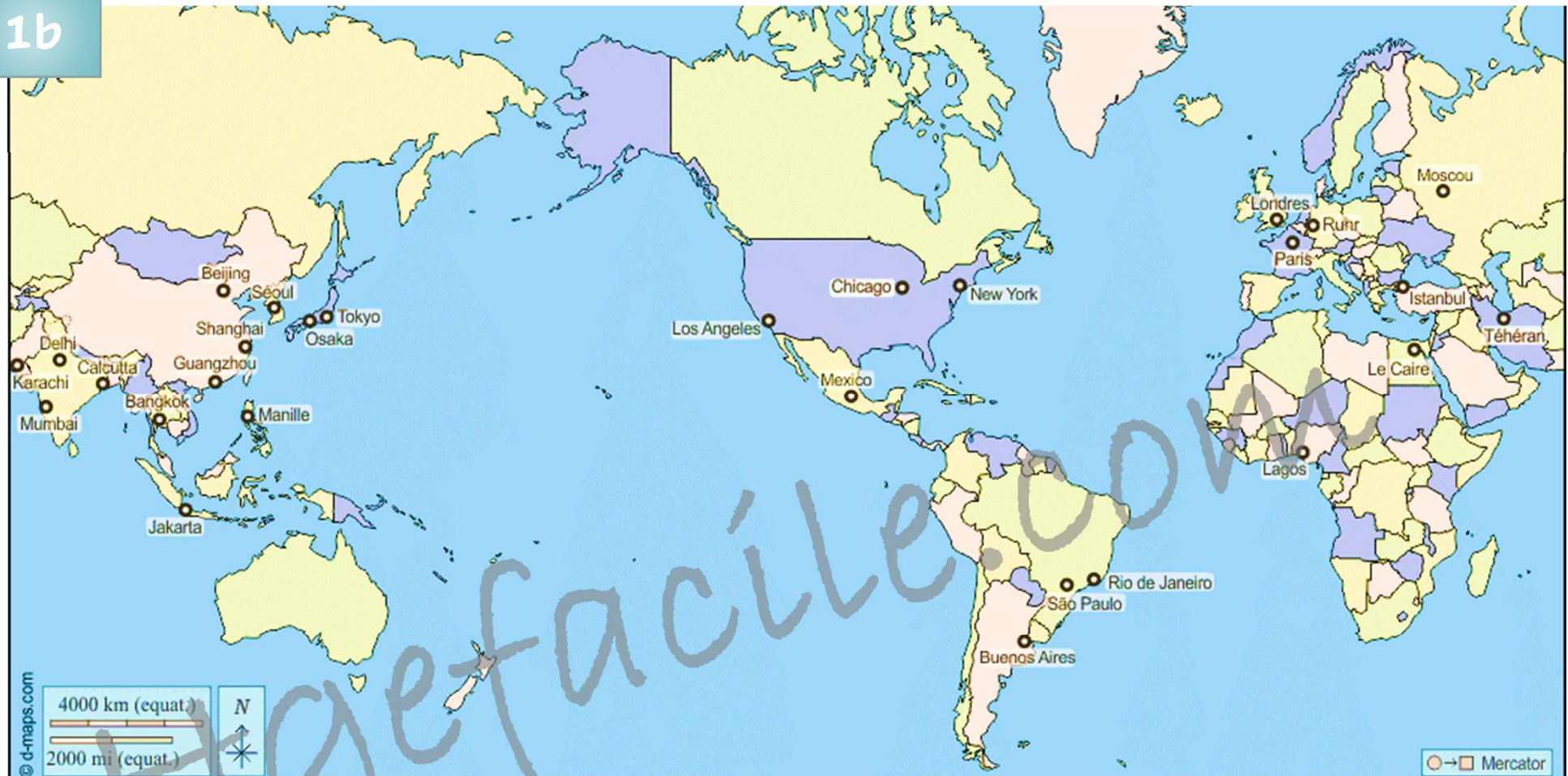
Chapitre 2:

LES ÉTATS-UNIS

Pb :

Quelle place occupent les Etats-Unis dans le processus de mondialisation et quelles sont les conséquences sur l'organisation de son territoire ?

1b



1. Relevez la particularité de cette carte .
2. Sur quel continent se trouvent les Etats-Unis ?
3. Quels territoires assurent la communication avec les autres continents ?
4. L'attraction qu'exercent les littoraux se nomme :
 - maritimisation
 - littoralisation
 - océanisation

Compétences : Avoir des repères géographiques

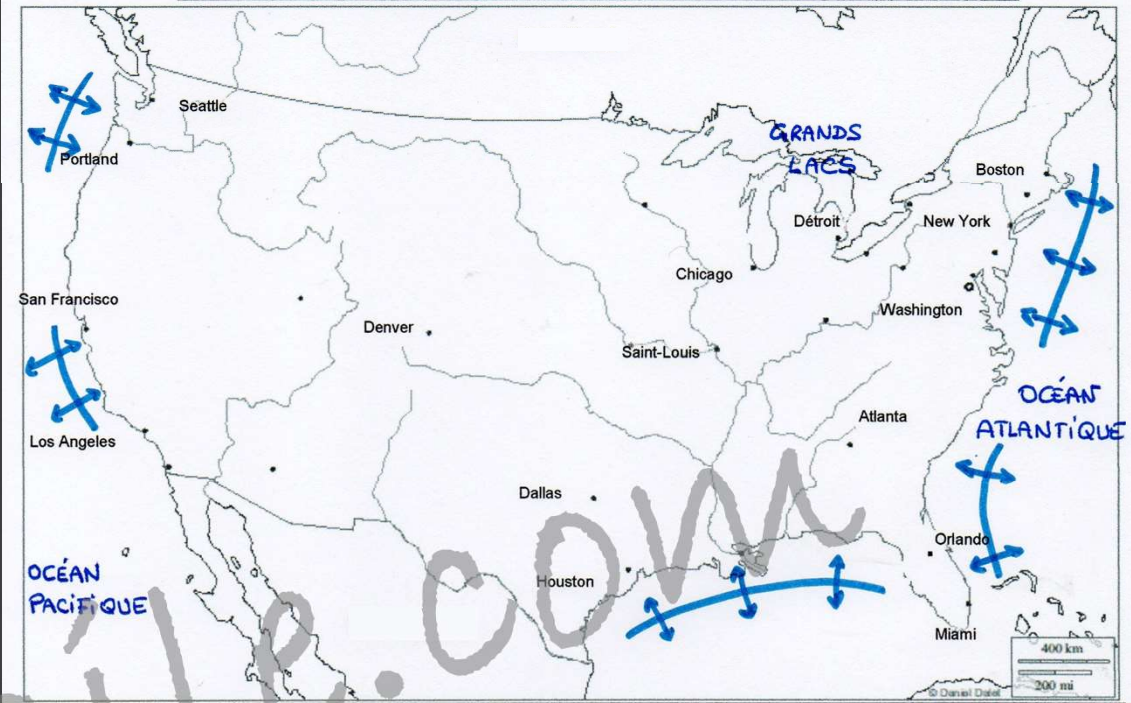
1c

I. Un territoire intégré au monde...

A. Ses atouts dans la mondialisation

- Le continent **américain** représente une **péninsule** entre 2 océans. Ses **façades maritimes** ouvrent :
 - d'un côté sur l'Europe et l'Afrique,
 - de l'autre sur l'Asie et l'Océanie.Ces façades ont été aménagées pour attirer sur les littoraux les hommes et les activités, on parle de **littoralisation**.

- Complétons le croquis



I - La métropolisation du territoire



II - Les ensembles du territoire et leur intégration à la mondialisation



III - Les flux mondiaux et internes qui animent le territoire



Façade maritime et lacustre active

1 Les échanges commerciaux entre les Etats-Unis et la Chine

1d

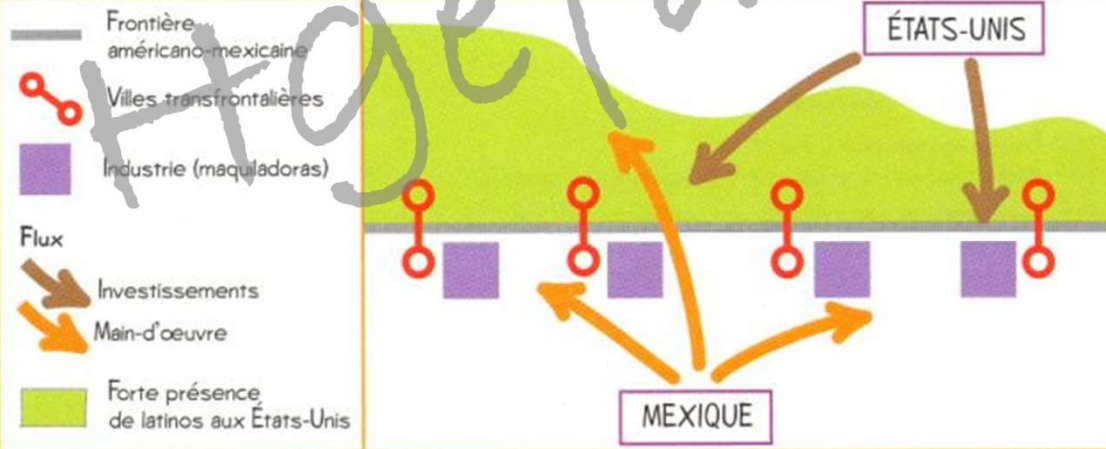
TOP 3 DES PAYS QUI ÉCHANGENT LE PLUS AVEC LES ÉTATS-UNIS
Total des échanges, en 2017



1. Doc 1 : Quels sont les principaux partenaires commerciaux des Etats-Unis ? Pourquoi ?

2

LA RÉGION TRANSFRONTALIÈRE AMÉRICANO-MEXICAINE



2. Doc 2 : Quels types d'échanges s'organisent avec le Mexique ?

3. Doc 2 : Comment s'organise la frontière américano-mexicaine ? Pourquoi ?

1e

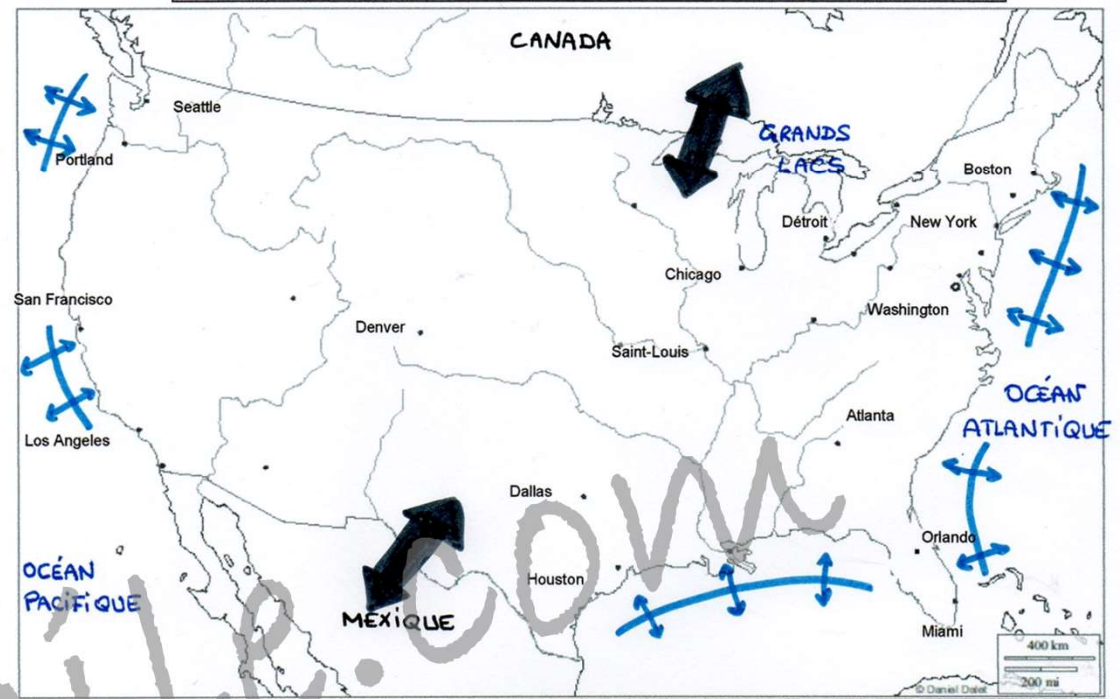
- A l'échelle du continent, les EUA bénéficient d'une situation stratégique pour les échanges de tous ordres.

- Au Nord se trouve le **Canada**, un pays **riche** vers lequel exporter des productions à forte valeur ajoutée.

- Au Sud, **l'Amérique centrale et latine**; des pays **moins riches** où la main d'œuvre est moins chère pour importer des produits moins complexes.

⇒ Ces interfaces maritimes et terrestres sont au cœur de la puissance des EUA.

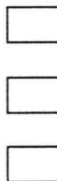
- Complétons le croquis



I - La métropolisation du territoire



II - Les ensembles du territoire et leur intégration à la mondialisation



III - Les flux mondiaux et internes qui animent le territoire



Façade maritime et lacustre active



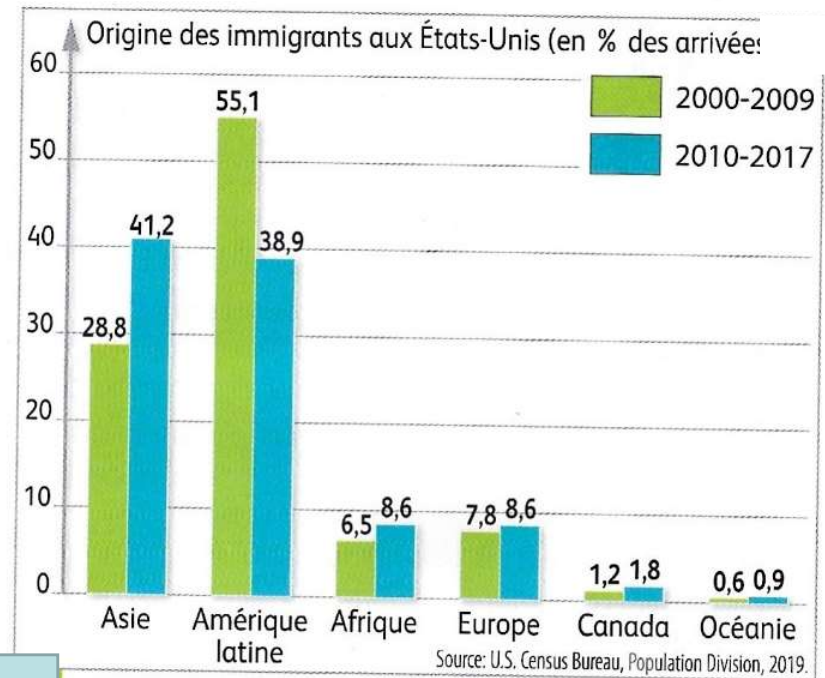
Echanges frontaliers intenses

1 Récits de migrants d'aujourd'hui

2a

a. Un migrant **hispanique** témoigne : « Au Mexique, je ne pouvais plus gagner assez pour ma famille. Ma femme et ma fille n'avaient rien à manger. J'étais obligé de choisir entre rester et voir ma famille souffrir ou partir pour la Californie et gagner de l'argent pour la nourrir. La décision était claire. Une fois arrivé, j'ai commencé à travailler. Je fais le jardinage pour un couple en échange d'une chambre dans leur garage. Comme ça je réussis à gagner de l'argent que j'envoie à ma famille. »

D'après le témoignage de José recueilli par Veronica Huerta, Université de l'État de Californie, 2016.



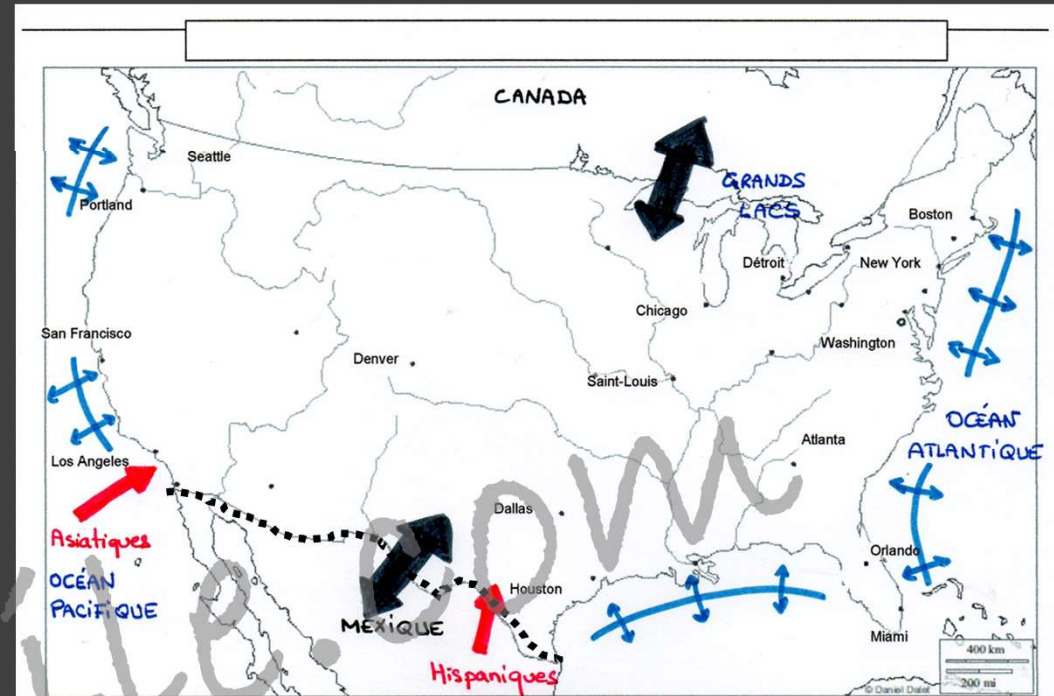
2 L'origine des migrants, début du XXI^e siècle

1. Doc 1 : D'où vient l'immigrant ? Quelle est la raison de sa migration ?
2. Doc 2 : D'où viennent majoritairement les migrants et pourquoi ?

2b

B. Les dynamiques d'attractions du territoire

Sur un plan humain, cette ouverture au monde d'un pays riche entraîne des flux d'immigration depuis l'Asie et le Sud de continent américain.







I - La métropolisation du territoire



II - Les ensembles du territoire et leur intégration à la mondialisation

III - Les flux mondiaux et internes qui animent le territoire

-  Façade maritime et lacustre active
-  Echanges frontaliers intenses
-  Flux d'immigration important
-  Frontière très surveillée

- Complétons le croquis

2c

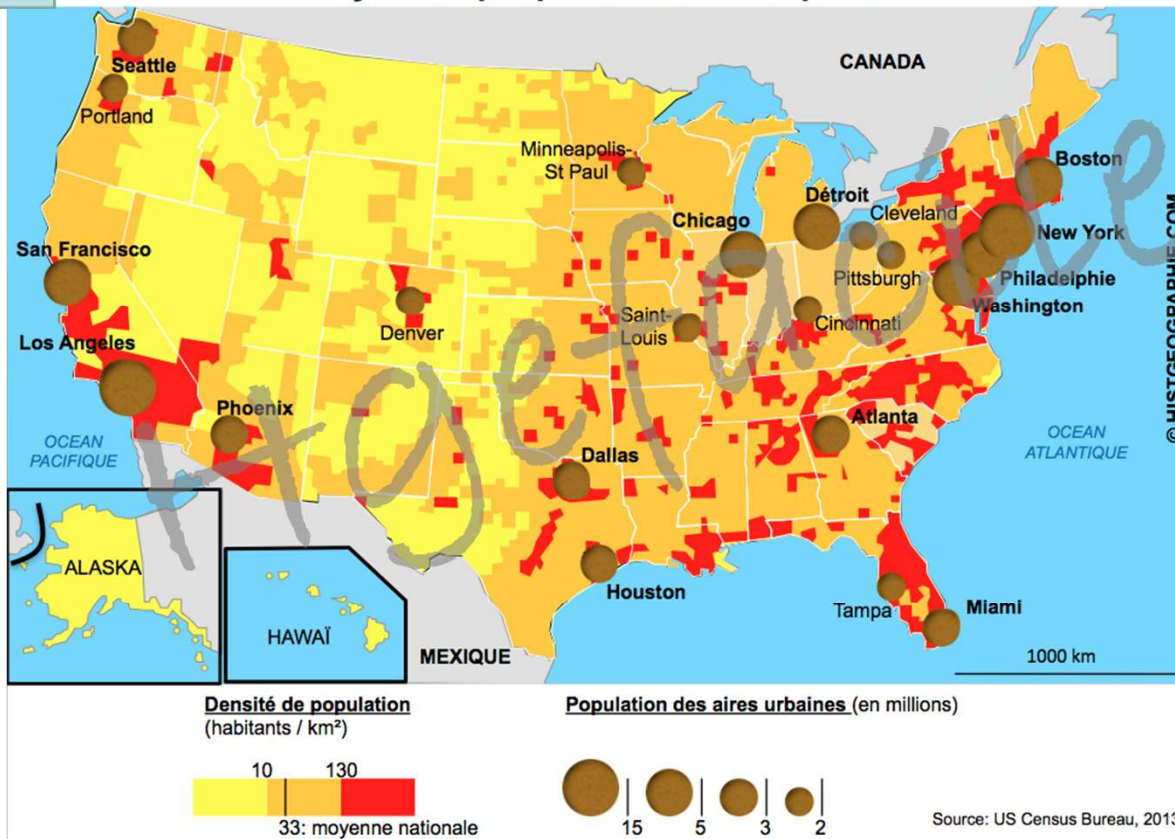
1

	Population métropolitaine				Population totale (%)			
	1970	1980	1990	2000	1970	1980	1990	2000
États-Unis	140 091 624	169 374 534	198 478 073	218 606 870	69,3	74,8	79,8	80,2

D'après J. Sellers, *Politique et métropole*, 2007, CNRS, pp. 41-65.

2

Foyers de peuplement et métropoles



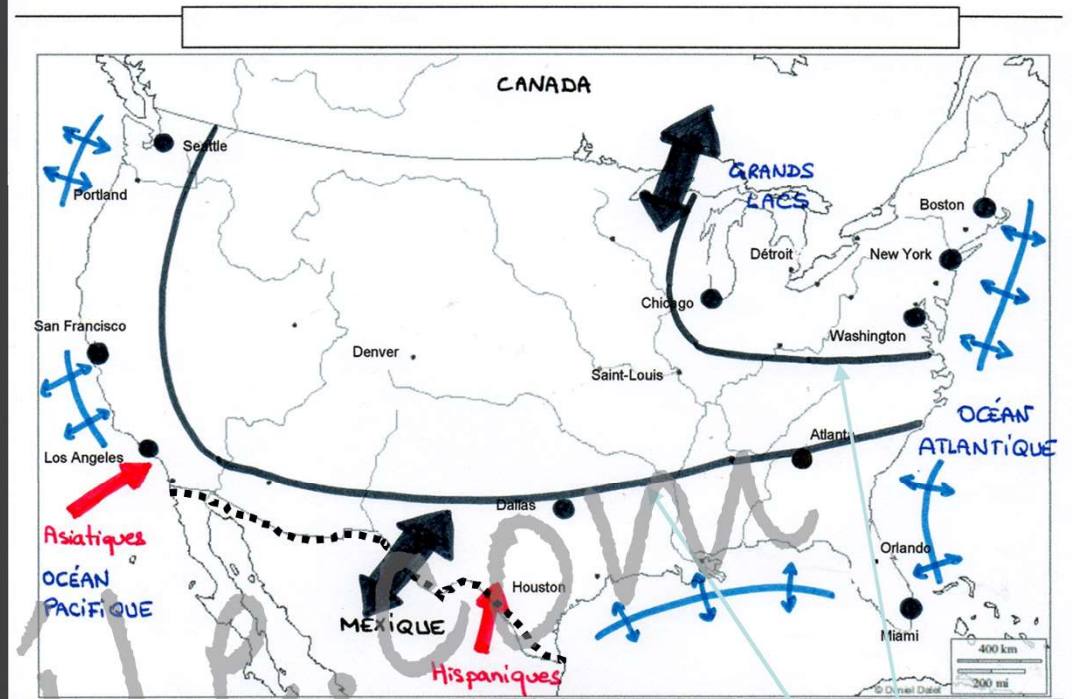
1. Doc 1 : Comment a évolué la population des métropoles américaines ?
2. Doc 1 : Quelle est la proportion d'États-uniens qui vivaient en métropole en 2000 ?

.COM

3. Doc 2 : Quelles sont les principales métropoles étatsuniennes de plus de 5 millions d'habitants ?

2d

Aux EUA, 4 américains sur 5 vivent **dans une métropole**, on parle de **métropolisation**. Or la métropolisation et la mondialisation fonctionnent ensembles. De fait, New York, Washington, Chicago, Los Angeles ou San Francisco sont des centres aux actions mondiales.



I - La métropolisation du territoire

● Grande métropole



II - Les ensembles du territoire et leur intégration à la mondialisation



III - Les flux mondiaux et internes qui animent le territoire



Façade maritime et lacustre active



Echanges frontaliers intenses



Flux d'immigration important




Frontière très surveillée

Attention au crayon à papier

- Complétons le croquis

3a



1

Touristes au dessus du Grand Canyon
(Arizona)



2

Une grande exploitation
dans le Minnesota

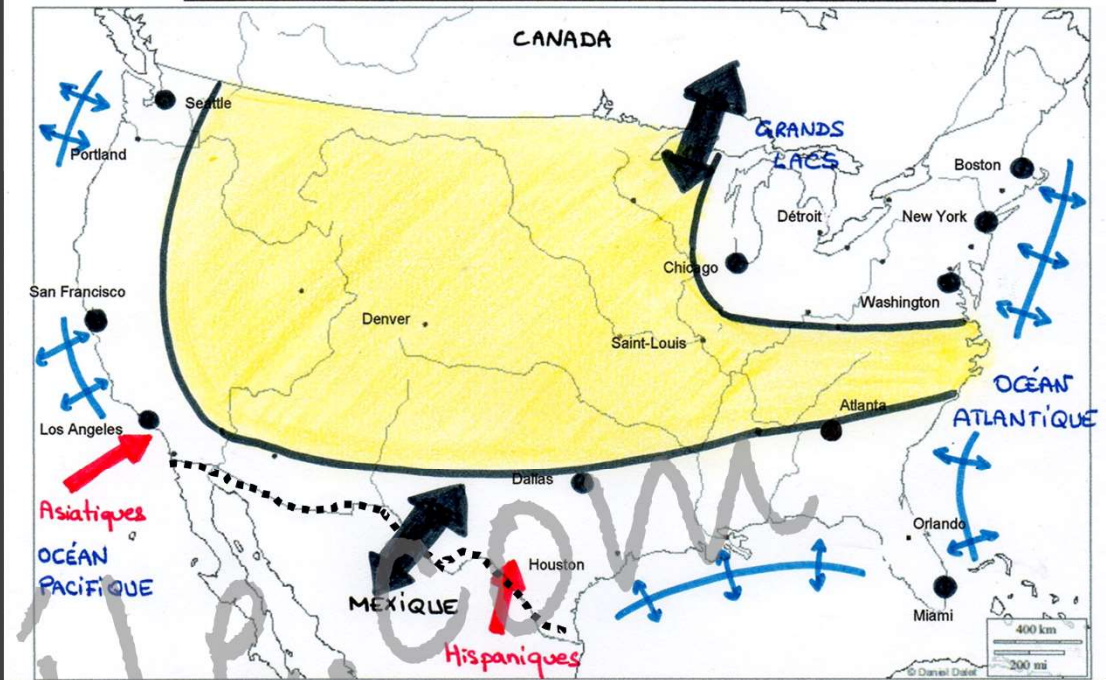
1. A quoi correspondent les espaces à l'intérieur du territoire ?
2. Quels atouts apportent-ils aux Etats-Unis ?
3. Quel est leur degré d'intégration au monde ?

3b

II - ... mais un territoire contrasté...

-L'intérieur du pays est formé des Grandes plaines (agricoles) et des montagnes Rocheuses (riches en ressources naturelles). Ce territoire moins peuplé se tient à l'écart des échanges mondiaux.

- Complétons le croquis



I - La métropolisation du territoire

● Grande métropole



II - Les ensembles du territoire et leur intégration à la mondialisation



Les territoires de l'intérieur, moins intégrés à la mondialisation ou indirectement

III - Les flux mondiaux et internes qui animent le territoire



Façade maritime et lacustre active



Echanges frontaliers intenses



Flux d'immigration important



Frontière très surveillée

1 D'après le document 1, à l'aide des points cardinaux, où la Mégalopolis est-elle située aux États-Unis ?

.....

2 Sur la carte, écrivez le nom de l'océan qui borde la Mégalopolis.

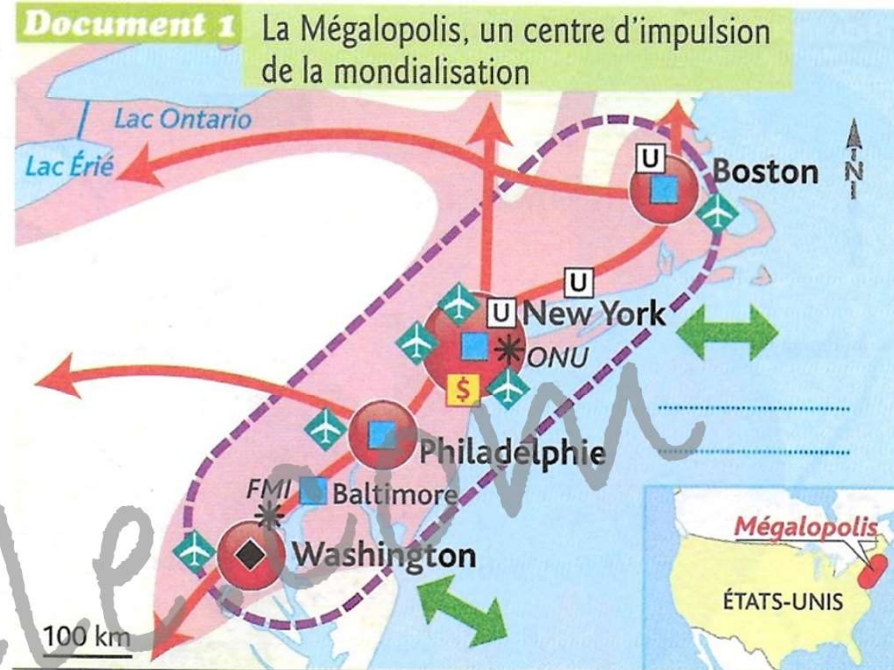
3 Soulignez le nom des deux métropoles entre lesquelles s'étend la Mégalopolis.

4 Quelles informations montrent qu'il s'agit d'une région peuplée ?

.....

5 Quels équipements permettent à cette région de recevoir les flux :

- d'hommes ?
- de marchandises ?
- de capitaux ?



1. Une région urbanisée et peuplée

limite de la Mégalopolis

forte densité de population (55 millions d'habitants)

principales métropoles

2. Un centre de décision mondial

bourse mondiale

capitale politique

institutions internationales

université de renommée mondiale

3. Une région connectée au monde

aéroports internationaux

principaux ports

flux de marchandises, de capitaux et d'informations

principaux axes de transports

6 À l'aide de la carte, complétez le tableau suivant en classant les institutions qui font de la Mégalopolis un centre de décision de niveau mondial.

La Mégalopolis américaine, centre de décision mondial	
Pouvoir politique
Pouvoir culturel
Pouvoir économique et financier

7 Dans le document 2, soulignez ce qui explique la nécessaire adaptation des ports de la côte Est des États-Unis.

8 Encadrez les deux handicaps du port de Baltimore.

9 Quelle activité constitue l'avenir du port de Baltimore dans la mondialisation ? Pourquoi ?

.....

.....

Document 2 Le port de Baltimore et la mondialisation

« [Du fait de l'augmentation du commerce maritime] sur la côte Est des États-Unis, plusieurs ports cherchent à relancer leur activité. Un premier défi pour Baltimore est celui du manque de profondeur pour accéder au port. Une deuxième opportunité est [...] l'élargissement en cours des écluses du canal de Panama qui devrait permettre [...] l'arrivée de gros porte-conteneurs ayant emprunté la route transpacifique en provenance d'Asie. Troisièmement, l'essor économique du Brésil est favorable aux ports du golfe du Mexique et de la côte Est. [...] Baltimore, cependant, est lourdement handicapé face à ces possibilités de renaissance des trafics, du fait de son éloignement de la mer. Il apparaît que l'avenir du port de Baltimore n'est plus d'être un port polyvalent au sein d'une façade maritime où d'autres ports sont mieux placés. Par contre, le port [...] garde une position enviable dans le trafic roulier¹. C'est en effet le principal terminal de véhicules automobiles de la côte Est. »

D'après Y. Boquet, « Le port de Baltimore dans la compétition interportuaire aux États-Unis », revue *Territoire en mouvement* n° 10, « Ports et Transport maritime », 2011, <http://tem.revues.org/1115>.

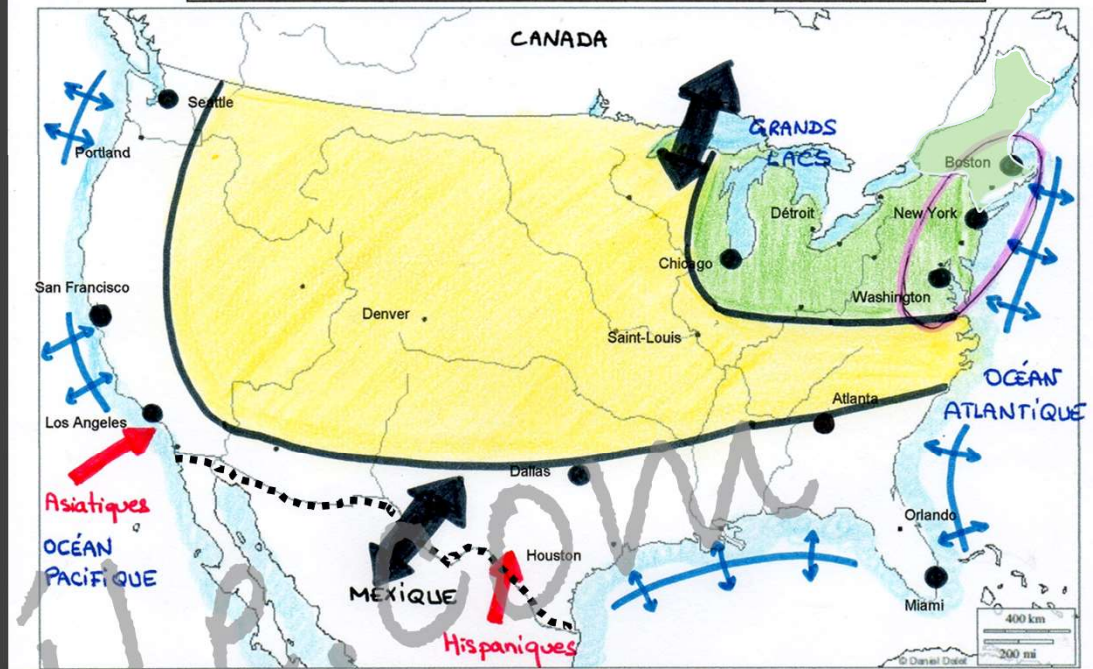
1. Un roulier est un navire utilisé pour transporter entre autres des véhicules.

3d

-La Mégalopolis est le nom donné à l'urbanisation massive et continue sur plusieurs centaines de kilomètres de la côte nord-est des Etats-Unis. Ce mot signifie en grec très grande ville.

La Mégalopolis et la région des Grands Lacs au nord-est constituent le cœur du territoire. Ce centre de décision majeur concentre la population, les métropoles, les activités et toutes les formes de pouvoirs.

- Complétons le croquis



I - La métropolisation du territoire

- Grande métropole
- Mégalopolis

II - Les ensembles du territoire et leur intégration à la mondialisation

- Cœur du territoire, très intégré à la mondialisation
- Les territoires de l'intérieur, moins intégrés à la mondialisation ou indirectement

III - Les flux mondiaux et internes qui animent le territoire

- ↕ Façade maritime et lacustre active
- ↔ Echanges frontaliers intenses
- ← Flux d'immigration important
- Frontière très surveillée

4a

Dans votre fichier F54

1 D'après le document 1, à l'aide des points cardinaux, situez la Californie aux États-Unis.

2 Écrivez sur la carte le nom de l'océan qui borde la Californie.

3 Où se situent les plus fortes densités de population ?

4 Dans la légende, soulignez les flux témoignant de l'attractivité de la Californie.

5 Quels aménagements et quel accord commercial montrent l'ouverture de la Californie sur le monde ?

6 Entourez les deux pôles mondiaux de l'innovation et du cinéma en Californie.

Document 1 La Californie, un territoire dynamique intégré à la mondialisation



- 1. Une région urbanisée et peuplée**
 - État de Californie
 - forte densité de population
 - agriculture
 - principales villes
- 2. Une région connectée au monde**
 - aéroport international
 - port
 - axe routier majeur
- Los Angeles** métropole mondiale
- frontière fermée à l'immigration
- MEXIQUE** État membre de l'ALENA¹
- 3. Une région dynamique et attractive**
 - capitale mondiale de la haute technologie
 - université de renommée mondiale
 - flux migratoires majeurs
 - capitale mondiale du cinéma
 - flux de marchandises, de capitaux et d'informations

1. Accord de libre échange nord-américain.

7 Quel pays est situé au sud de la Californie ? Pour quelle raison la frontière avec ce pays est-elle fermée ?

Document 2 Une intégration inégale

« La Californie est un État puissant [...], une "région" motrice de la mondialisation [...]. Pour autant, la Californie n'est pas à l'abri de difficultés. En raison des dynamiques internes de la Californie, le traditionnel clivage Nord-Sud est peu à peu [...] remplacé par une nouvelle ligne de clivage, opposant le littoral et l'intérieur de l'État. [...] L'emploi se concentre dans la région urbaine de San Francisco et l'agglomération de Los Angeles [...]. Ces métropoles constituent [...] les leviers fondamentaux de la puissance économique de la Californie. [...] Certains comtés perdent de la population (entre -7,8 et -4 %), situés dans le Nord-Est de l'État, ces comtés – ruraux – sont éloignés des pôles de croissance et des grands axes de circulation. »

Frédéric Leriche, « Les paradoxes de la puissance californienne », Géoconfluences, 7 juillet 2015.

8 Dans le document 2, soulignez la phrase montrant que la Californie est au cœur de la mondialisation et entourez le nom des deux métropoles qui se renforcent grâce à elle.

9 Où se situent les comtés à l'écart de ces deux pôles de croissance et comment se manifeste leur déclin ?


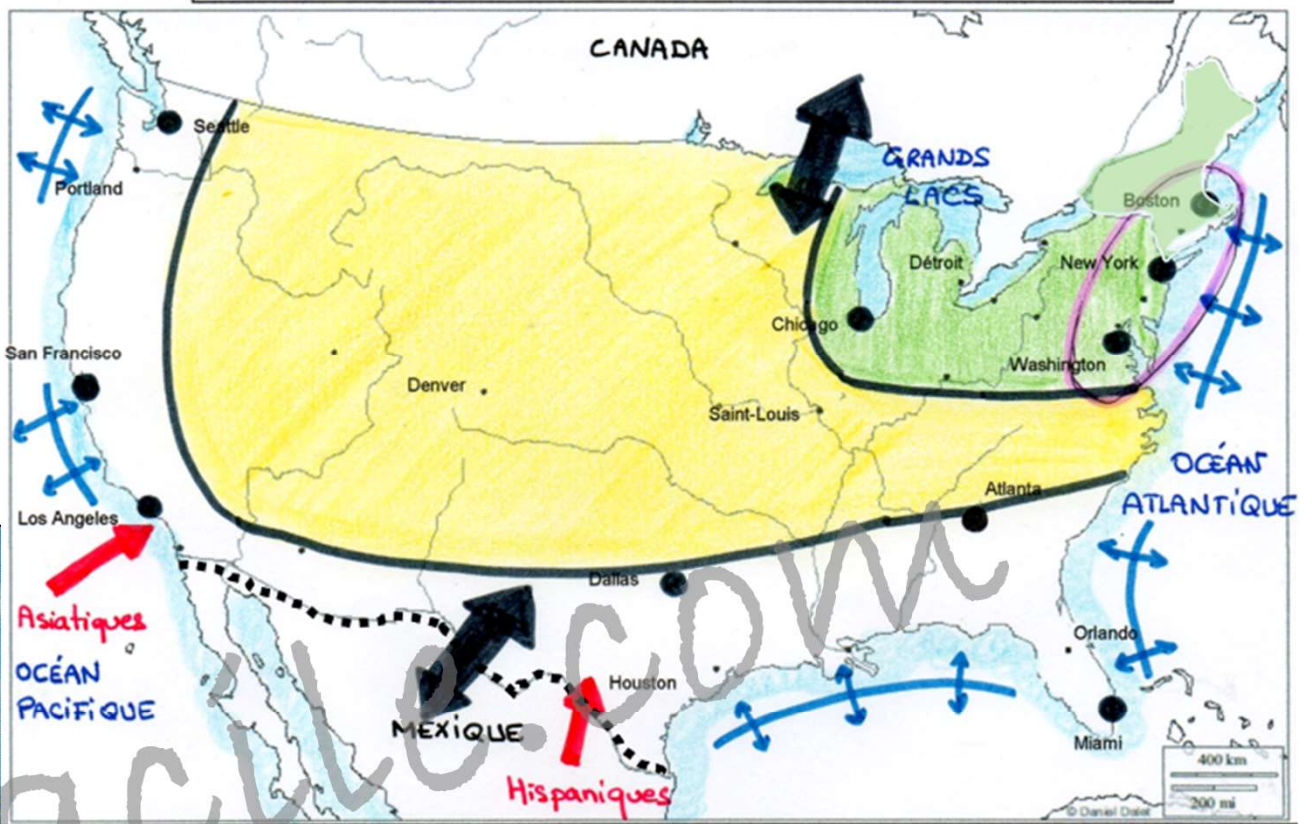
10 Entre quelles régions la mondialisation provoque-t-elle un nouveau clivage ?



4 La Silicon Valley

- 1) Où se situe la Silicon Valley ?
- 2) Qu'y trouve-t-on ?
- 3) Comment appelle-t-on ce type d'espace qui regroupe des activités de recherches et technologies ?

4d



5 Le port de Miami

Miami est le plus important port de croisières au monde. En 2009, plus de 4 millions de croisiéristes sont passés par le port de Miami. Il est capable d'accueillir les plus gros paquebots du monde.

- 1) Localisez et situez Miami.
- 2) Quels sont les atouts de cet espace ?

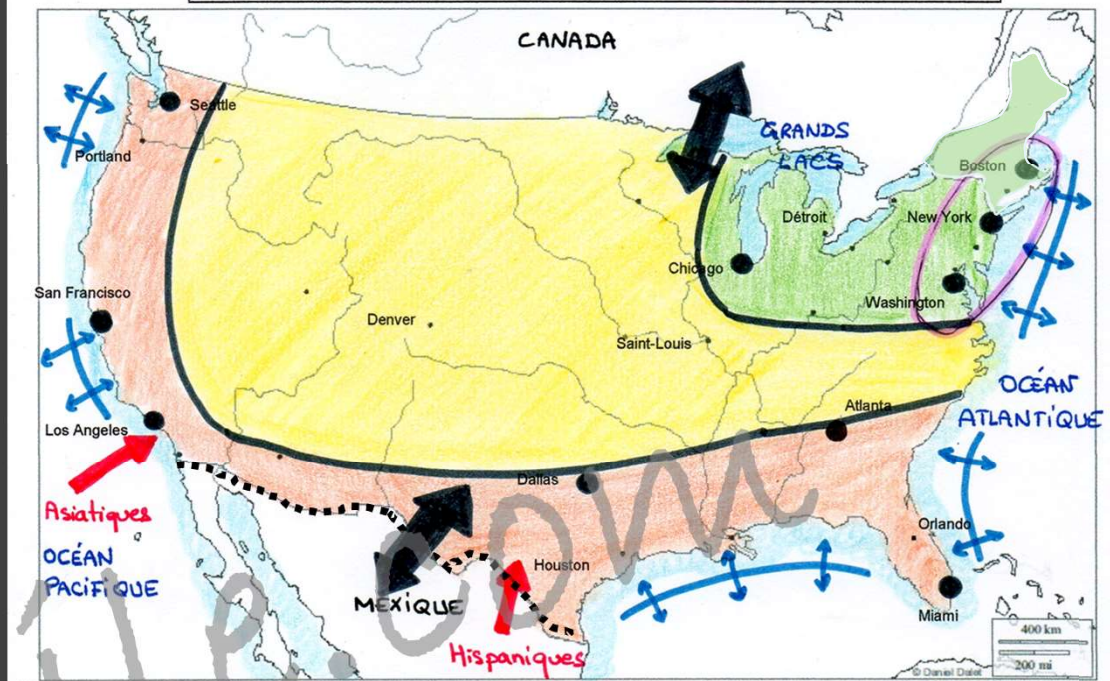
4d

-Le « croissant périphérique » qui s'étend de Seattle à la côte atlantique forme un espace dynamique et attractif nommé la Sun Belt. Elle doit son dynamisme aux industries de pointe implantées dans de nombreux technopôles et au tourisme.

III- ... et en mutation.

Depuis les années 1960, les périphéries occidentales et méridionales (Sun Belt) bénéficient de puissantes dynamiques migratoires et deviennent le lieu d'implantation privilégiée des firmes transnationales (FTN).

- Complétons le croquis



I - La métropolisation du territoire

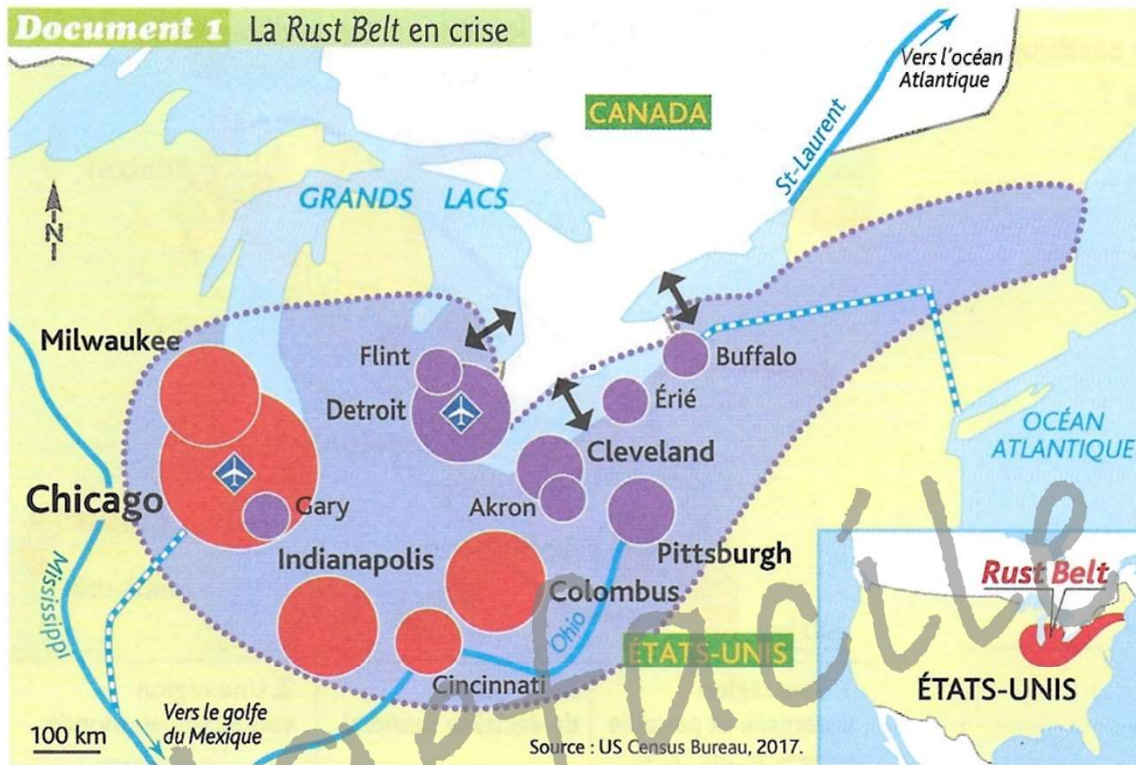
- Grande métropole
- Mégalopolis

II - Les ensembles du territoire et leur intégration à la mondialisation


- Cœur du territoire, très intégré à la mondialisation
- Sun Belt, espace attractif, moteur de la mondialisation
- Les territoires de l'intérieur, moins intégrés à la mondialisation ou indirectement

III - Les flux mondiaux et internes qui animent le territoire

- ⊕ Façade maritime et lacustre active
- ↔ Echanges frontaliers intenses
- ← Flux d'immigration important
- Frontière très surveillée

Document 1 La Rust Belt en crise**1. Une région peuplée et urbanisée**

Population des agglomérations (en millions d'habitants)

**2. Une région en crise**

Rust Belt

Évolution de la population entre 2010 et 2015

- augmentation
- diminution

3. Une région connectée à la mondialisation

aéroport international



axe fluvial



grand canal

CANADA

État membre de l'ALENA (Accord de libre échange nord-américain)



flux d'hommes et de marchandises

1 D'après le document 1, à l'aide des points cardinaux, localisez la *Rust Belt* aux États-Unis. À la frontière de quel pays est-elle située ?

2 Par quels fleuves et lacs la région est-elle reliée à l'océan Atlantique et au golfe du Mexique ?

3 Dans le document 2A, entourez la traduction de *Rust Belt*. Comment appelait-on cette région avant les années 1980 ?

Document 2 Déclin et renouveau
de la *Rust Belt* aux États-Unis

A. « La *Rust Belt* est une région appelée auparavant *Manufacturing Belt*. [...]. Depuis les années 1980, son nouveau nom (“ceinture de la rouille”) évoque le déclin des industries lourdes (sidérurgie) et de l’industrie automobile [...]. Si certaines villes ont réussi leur reconversion post-industrielle, la désindustrialisation s’est accompagnée d’une chute des emplois, d’un accroissement de la pauvreté, d’un recul démographique et d’un rétrécissement urbain dont Detroit est l’exemple le plus saisissant. »

D’après « *La Rust Belt* », Glossaire de Géoconfluences, juillet 2015.

B. « Usines fermées et quartiers à l’abandon ont nourri l’image de la *Rust Belt* [...]. Il semble que la crise [...] soit terminée ; non seulement les technologies ont permis la modernisation de certains secteurs (aciers spéciaux, chimie, textiles synthétiques, automobile), mais des villes et des régions sinistrées, comme Pittsburgh [...] ou la Nouvelle-Angleterre [...], se sont fort bien reconverties dans les industries de pointe, grâce à la valorisation de nombreux atouts : un énorme marché, des universités prestigieuses, un potentiel touristique très favorable, un environnement urbain et côtier exceptionnel. »

Encyclopédie Larousse en ligne, Larousse.fr, 2017.

9 D’après le document 1, grâce à quels aménagements et quel accord commercial la *Rust Belt* est-elle connectée à la mondialisation ?

3 Dans le document 2A, entourez la traduction de *Rust Belt*. Comment appelait-on cette région avant les années 1980 ?

4 De quelles industries le nom de *Rust Belt* évoque-t-il le déclin ?

5 Soulignez en rouge les conséquences de ce déclin.

6 Sur le document 1, soulignez :

- en bleu, deux autres villes qui, comme Detroit, ont connu une diminution de leur population ;
- en rouge, les cinq villes dont la population a au contraire augmenté entre 2010 et 2015.

7 Dans le document 2B, soulignez en vert le passage montrant que d’anciennes industries ont su se moderniser pour faire face à la mondialisation.

8 Soulignez en rouge les nombreux atouts sur lesquels s’appuie le renouveau de la *Rust Belt*.

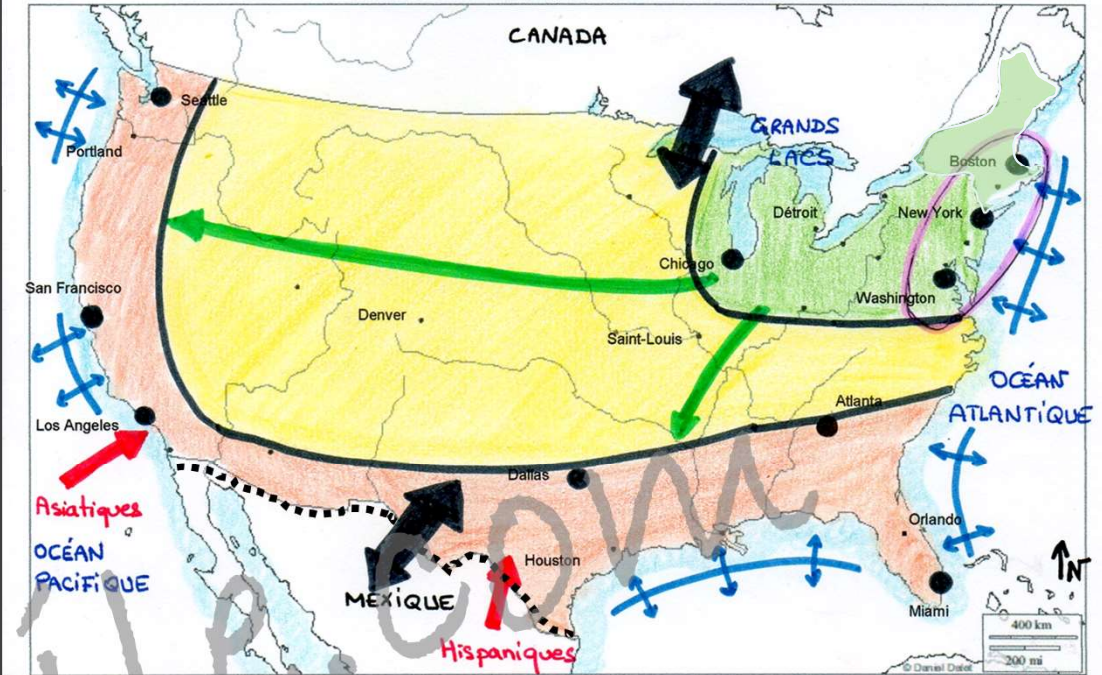
5c

On assiste donc à **un transfert** des activités, des hommes, de la recherche et des capitaux, **du Nord-est vers le croissant périphérique**. De plus, les côtes ouest et sud ouvrent sur **les nouveaux espaces dynamiques de la mondialisation** : l'Asie et l'Amérique latine.

Hggefaca

- Complétons le croquis

L'ORGANISATION DU TERRITOIRE DES ÉTATS-UNIS DANS LE CONTEXTE DE MONDIALISATION



I - La métropolisation du territoire

- Grande métropole
- Mégalopolis

II - Les ensembles du territoire et leur intégration à la mondialisation

- Cœur du territoire, très intégré à la mondialisation
- Sun Belt, espace attractif, moteur de la mondialisation
- Les territoires de l'intérieur, moins intégrés à la mondialisation ou indirectement

III - Les flux mondiaux et internes qui animent le territoire

- ⊕ Façade maritime et lacustre active
- ↔ Echanges frontaliers intenses
- ← Flux d'immigration important
- ⋯ Frontière très surveillée
- Flux de capitaux et migrations internes