

MÉTHODO 6E

3 CARTOGRAPHIE : LIGNES IMAGINAIRES ET DOMAINES CLIMATIQUES

Compétence : Se repérer dans l'espace, construire des repères géographiques



QU'APPELLE-T-ON
LES LIGNES
IMAGINAIRES ?

QUI LES A IMAGINÉE
ET POURQUOI ?



- Relie chaque notion à sa définition.

L'équateur	●	● sont des lignes parallèles à l'équateur.
Les parallèles	●	● sont des lignes imaginaires qui joignent les deux pôles.
Les pôles	●	● est une ligne située à égale distance des deux pôles. Il sépare le globe en deux hémisphères.
Les méridiens	●	● sont les deux extrémités de la terre. La ligne imaginaire qui les relie est l'axe de rotation.

Hgdefacile.com

Méthodologie 6 3 – Cartographie : Les lignes imaginaires et domaines climatiques

- Localise et nomme les lignes imaginaires et séparations planétaires.



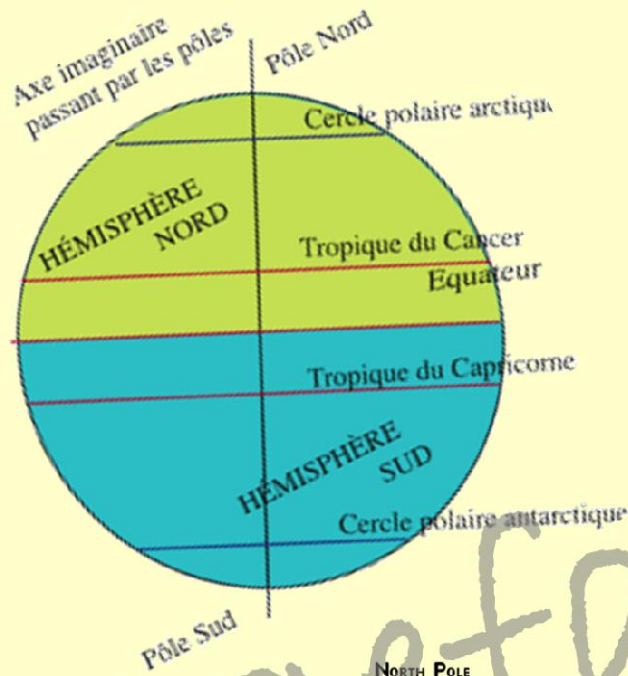
A. MESNIER



A QUOI SERVENT-
ELLES POUR
NOUS ?

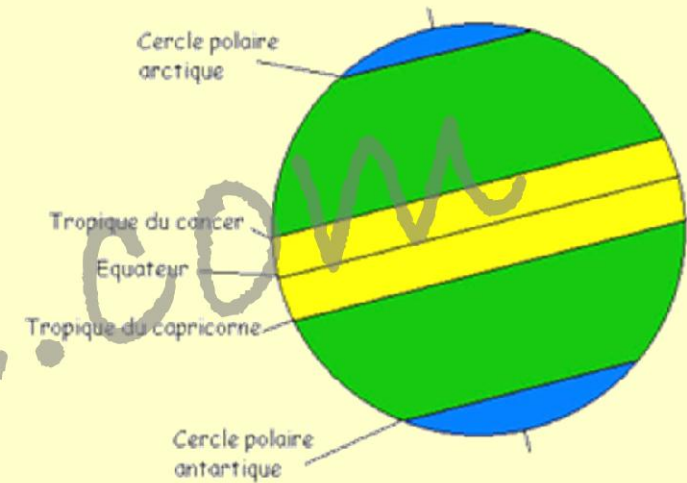


Méthodologie 6 3 – Cartographie : Les lignes imaginaires et domaines climatiques

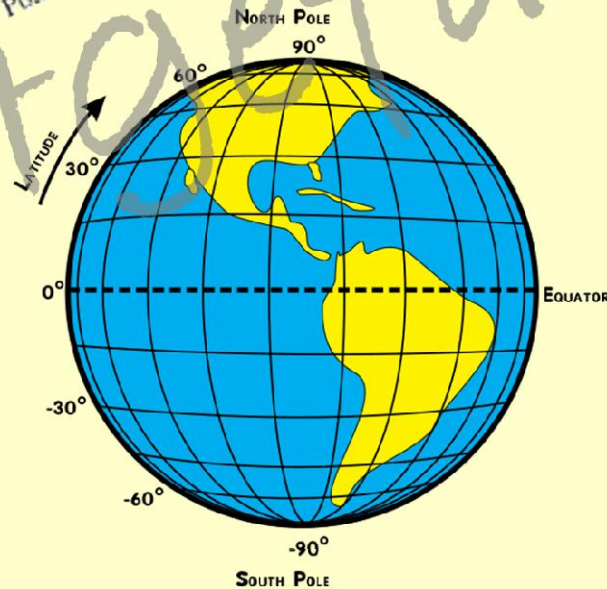


Zones climatiques

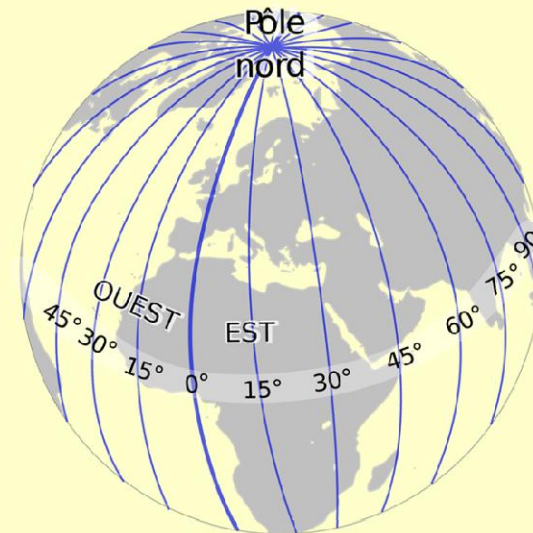
zone tempérée zone chaude zone froide



Latitude



Longitude

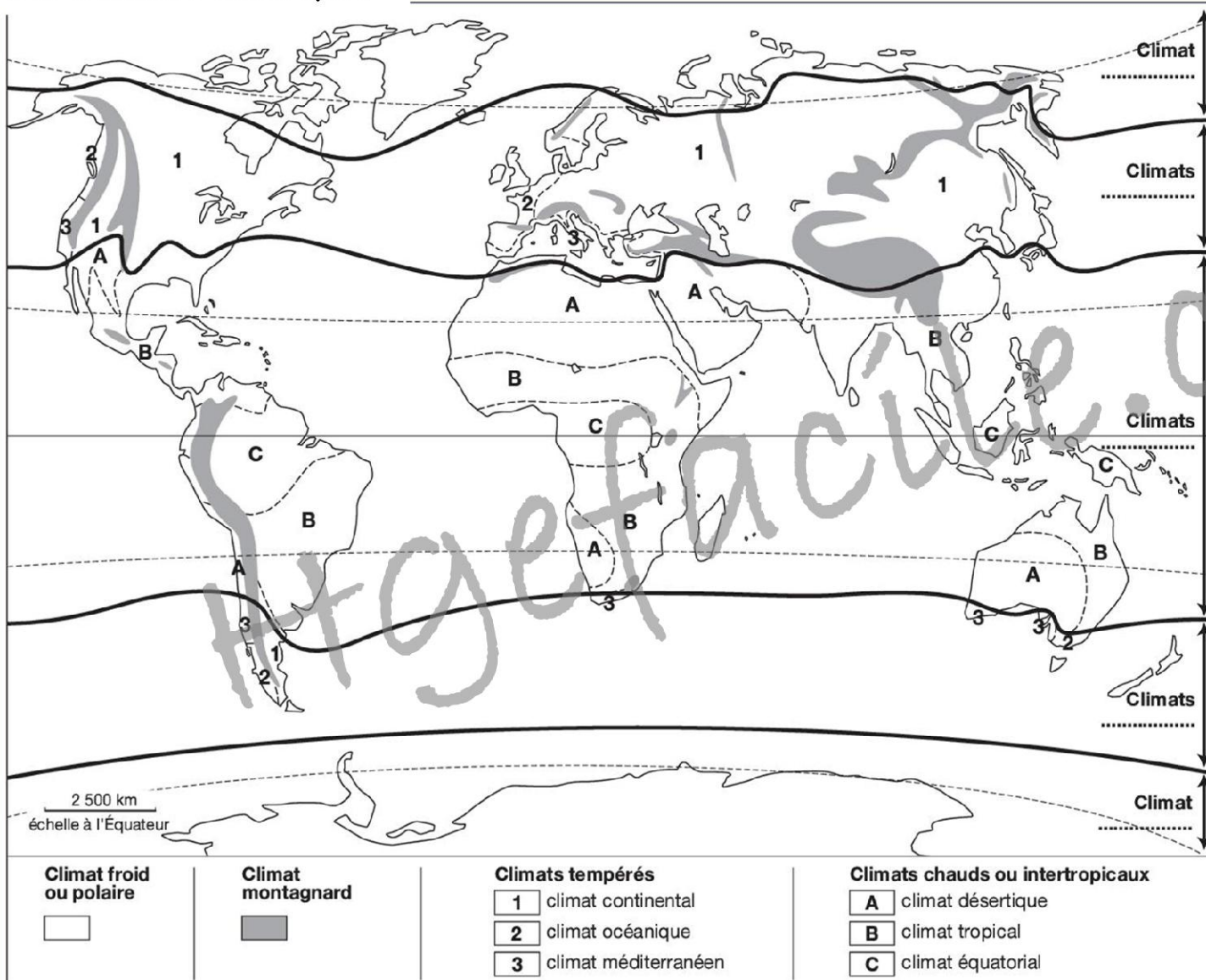


A. MESNIER

Méthodologie 6 3 – Cartographie : Les lignes imaginaires et domaines climatiques

Exercice 3 : Localise et nomme les domaines climatiques

Les domaines climatiques



© Hatier - Paris 2016

1) Quel est le thème de la carte ?

2) Quels sont les quatre grands types de climat ?

3) Complète avec le bon type de climat sur les pointillés à droite.

4) Nommez trois régions désertiques sur la carte. Le long de quelles lignes imaginaires se trouvent-t-elles en général ?

5) Quelles sont les caractéristiques du climat continental ? Nommez deux pays concernés sur la carte.

6) Quels sont les climats des littoraux d'Australie, et leurs caractéristiques ?

7) Colorie au crayon de couleur sans trop appuyer : 1 en bleu ; 2 en vert clair ; 3 en rose ; A en jaune ; B en orange ; C en rouge et le climat polaire en violet.